

# 110 學年度第二學期北興國中第一次段考題目卷 2 年級

## 一、單一選擇題（每題 2 分，共 22 分）

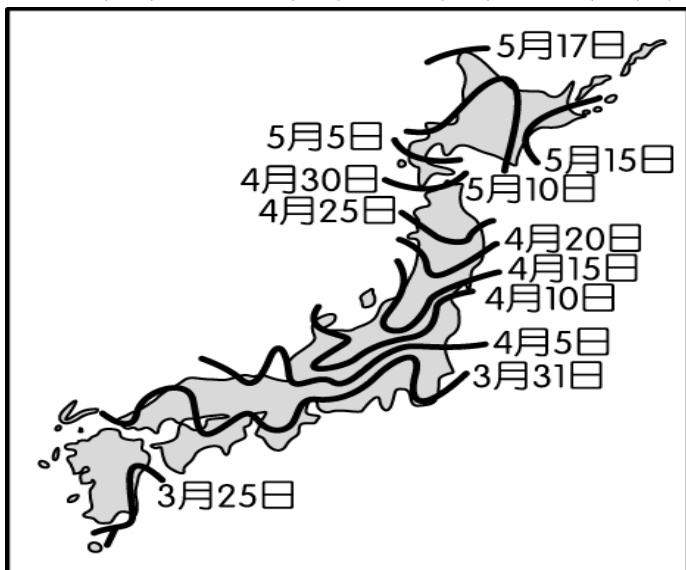
- 1.( ) 朝鮮半島在二戰後分裂為北韓和南韓兩個政體，大致以北緯 38 度為界，以北是「朝鮮民主主義人民共和國」，以南是「大韓民國」，兩者經濟差異大。根據統計，2018 年北韓的貿易總額為 65 億美元，南韓則為 9,020 億美元。炳浩整理了一個表格來解釋南、北韓的經濟發展差異，其中哪個說明有誤？

	北韓	南韓
(A)貿易總額	低	高
(B)礦產資源	缺乏	豐富
(C)經濟制度	共產主義	資本主義
(D)氣候條件	生長季短	生長季長

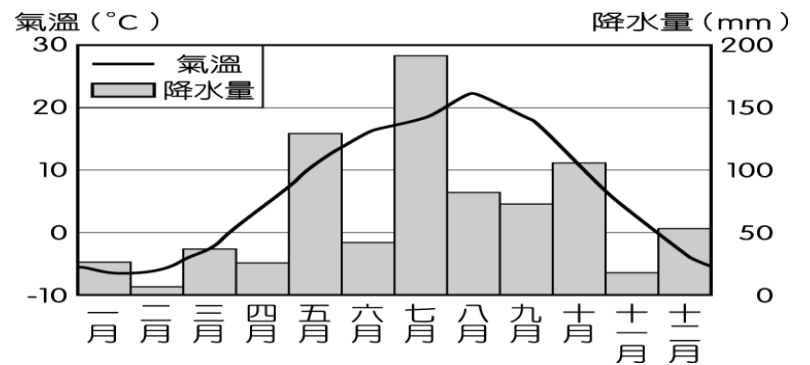
- 2.( ) 附表是亞洲四個國家的產業人口組成一覽表。請問：由日本的產業人口組成可以直接顯示出下列何項特色？(A)人口密度 (B)人口素質 (C)經濟發展 (D)人口分布。

國家	一級產業	二級產業	三級產業
寮國	62%	11%	27%
日本	6%	33%	61%
泰國	27%	27%	46%
南韓	12%	34%	54%

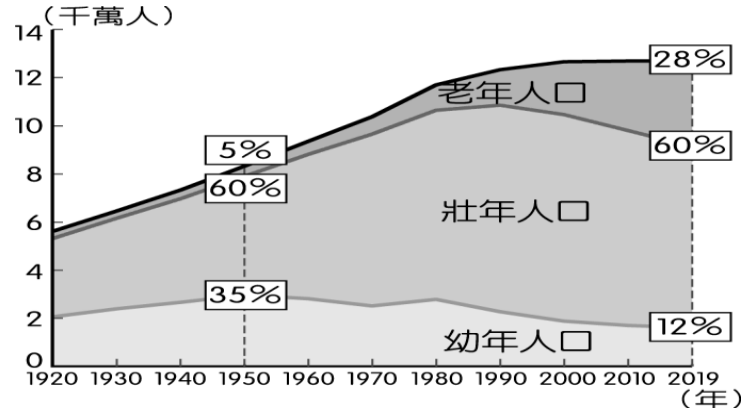
- 3.( ) 春季為日本著名賞櫻季節，滿開的櫻花花海吸引來自世界各地的觀光客前往，附圖為日本民間機構公布的櫻花開花日期預測。請問：下列哪一個地方的櫻花開花時間會最晚？(A)北海道(B)九州(C)四國(D)本州。



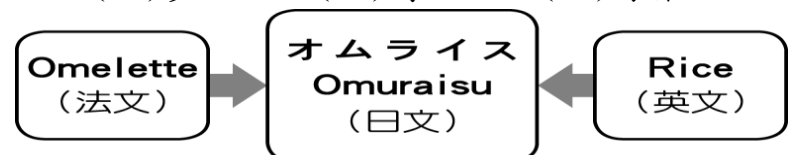
- 4.( ) 朝鮮半島以北緯 38° 為界分成南、北韓。下列有關兩韓的地理環境比較，何者與緯度高低的关系最小？(A)北韓的生長季較短(B)南韓的糧食生產較多 (C)南韓的氣溫較高 (D)北韓的地勢較高聳。
- 5.( ) 小利老師上課時，帶來一包牛奶糖請大家吃，並介紹這牛奶糖可大有來頭，它是源自一個世界重要的乳酪產地，右上圖為當地的氣候圖。依圖中內容判斷，該牛奶糖的產地最有可能是下列何處？(A)韓國的首爾牧場 (B)日本的九州牧場 (C)紐西蘭的草原 (D)澳洲的草原。



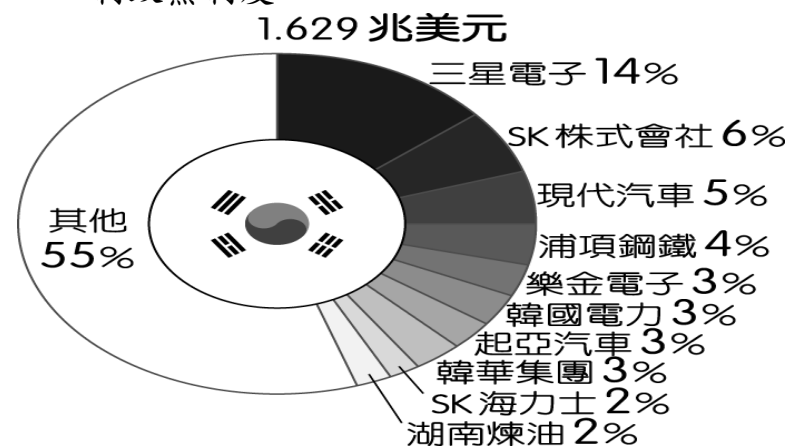
- 6.( ) 附圖是日本人口結構統計圖，由日本人口特色來看，下列哪一種創新產業會越來越夯，需求量日增？(A)影視產業 (B)日立冷氣 (C)健身房產業 (D)電動代步車。



- 7.( ) 附圖是日本的蛋包飯及日文發音，由圖可見日本文化具有何種特色？(A)單純性 (B)多元性 (C)傳統性 (D)專業性。



- 8.( ) 在全球化趨勢下，日本的經濟發展正面臨其他國家競爭。請問：該國目前的工業發展方向主要為下列何者？(A)高勞力工業 (B)低成本工業 (C)高附加價值工業 (D)高動力機動性工業。
- 9.( ) 北韓因為緯度影響，因此農業受到影響，其境內的農業活動年可幾穫？(A)無法種植 (B)一穫 (C)二穫 (D)三穫。
- 10.( ) 附圖是 2019 年南韓前十大企業營收占南韓 GDP 比例圖，由圖中資訊判斷，南韓企業有何特色？(A)中小企業居多 (B)單一公司營業額低 (C)多為大型財團 (D)實施專制政黨制度。



- 11.( ) 小慈暑假想到日本東京迪士尼樂園遊玩，他想先在旅遊網站找尋相關的旅遊資料，應該搜尋亞洲哪一個地區？(A)東北亞 (B)東南亞 (C)東亞 (D)中亞。

## 二、題組（每格 2 分，共 78 分）

(一). 說到凱旋門，大家第一個印象一定是法國巴黎。可是你知道嗎？位於北韓首都的凱旋門規模才是世界之冠。該建築物總共用了一萬多塊的花崗石建造，在 4 根花崗石柱面上，刻有領導人金日成的抗日事蹟，並且東面和西面的牆面上有中、韓國界山脈的浮雕，直接呈現該國的特色：

- ( ) (12) 北韓的凱旋門在牆面上所雕刻出的山脈位於中、韓國界上，這座山脈應該為何？(A) 中央山脈 (B) 富士山 (C) 喜馬拉雅山 (D) 長白山。

- ( ) (13) 根據上文的敘述判斷，我們若要使用衛星影像圖鳥瞰這座凱旋門，應該對準附圖中何處？(A) 甲 (B) 乙 (C) 丙 (D) 丁。

- ( ) (14) 凱旋門主要是北韓政府用以宣揚國力，給外人觀賞用的，但實際上北韓的民生經濟發展不佳。請問：北韓最有利的工業區位條件為何？(A) 市場廣大 (B) 勞工質優 (C) 煤鐵豐富 (D) 交通便利。

(二). 日本四面環海，因此對於海洋資源的利用十分關心。然而 311 地震的核能危機造成相當大的威脅，相關單位發現福島核電廠附近的海水被輻射污染，對於漁業資源的影響相當大。世界衛生組織亦提出警告，小量輻射將對海鮮食品安全構成潛在危害：

- ( ) (15) 福島核災的位置圖

如附圖所示，遭到核災污染的漁場位於哪一個海域？(A) 太平洋 (B) 日本海 (C) 黃海 (D) 大西洋。

- ( ) (16) 日本捕獲的漁產除了自用外，其高價的現撈魚貝類多利用何種方式運輸至歐美地區銷售，最能保持其鮮度？(A) 海運 (B) 空運 (C) 河運 (D) 陸運。

- ( ) (17) 日本漁業活動的態度早期以開發為主，近來則積極推動水產貿易認證及制定海洋生態之管理規範，展現永續發展漁業的決心。請問：下列日本政府的何種措施和永續發展的目標方向一致？(A) 規定捕魚作業季節 (B) 限制漁市營業時間 (C) 鼓勵食用牲畜肉類 (D) 推廣生魚片的吃法。

(三). 位居東北亞的朝鮮半島，北連中國，南以對馬海峽與日本相望，其地理位置使朝鮮半島常受到中國與日本的影響。近年來，隨著經濟的發展與政府的有意扶植，南韓的影視產業形成一股「韓流」，引起廣大迴響。其中，人物的飲食與穿著，已蔚為風潮，顯見南韓在影視與文化方面，已逐漸走出自己

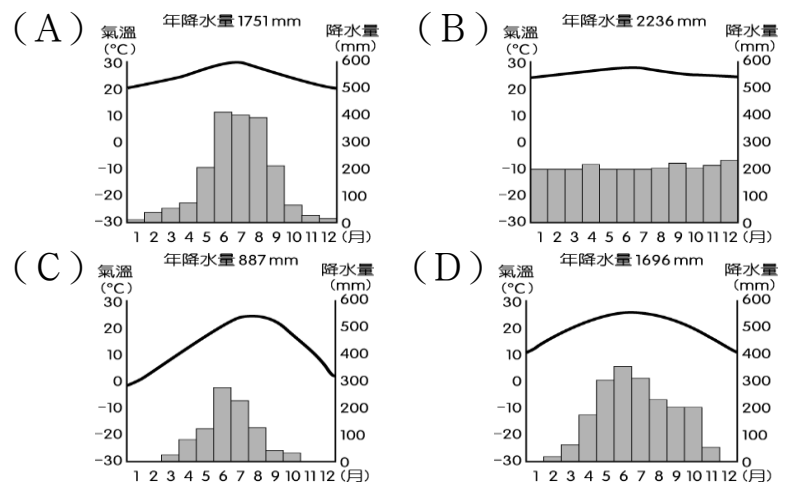
的路。

- ( ) (18) 在韓劇或南韓電影中，常可看到演員們吃著泡菜大快朵頤，劇情中也可見到製作泡菜的片段，反映出泡菜對南韓人的重要性。請問：這種飲食文化背後受什麼因素影響？(A) 地形 (B) 氣候 (C) 洋流 (D) 人口。

- ( ) (19) 由於地理位置的關係，朝鮮半島的政治發展常受到周邊國家影響。19 世紀末期，因為甲午戰爭的爆發，導致朝鮮喪失獨立地位，成為哪國的殖民地？(A) 美國 (B) 英國 (C) 德國 (D) 日本。

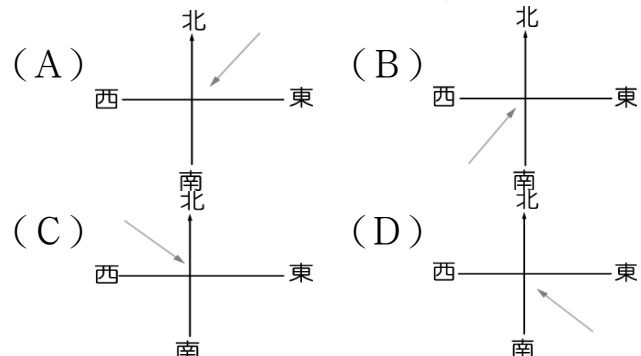
(四). 近年來全球氣候異常，在亞洲地區也不例外，包括中國、日本、南韓等都遭受到歷年少見的暴風雪侵襲！根據南韓氣象廳報導，南韓連日降下大雪，目前積雪量超過一米。造成一百多所中、小學臨時停課，山區的交通狀況欠佳，許多山間村莊的村民已陷入危急的孤立狀態。請問：

- ( ) (20) 南韓的氣候影響到境內傳統產業活動的發展，其屬於下列何種類型？



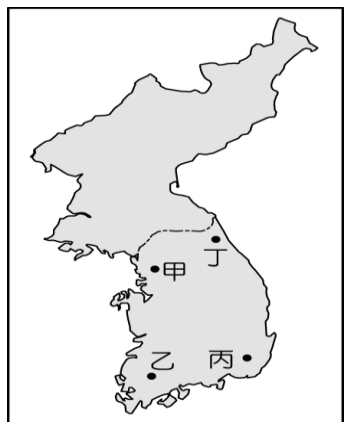
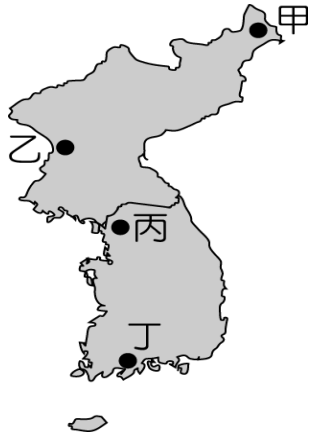
- ( ) (21) 上文中提及的暴雪地區主要位於山區，若利用地理資訊系統繪出相關分布圖，主要位於附圖中何處？(A) 甲 (B) 乙 (C) 丙 (D) 丁。

- ( ) (22) 救難隊前往當地進行救援時，遇到哪一種方向的強風夾帶大雪？



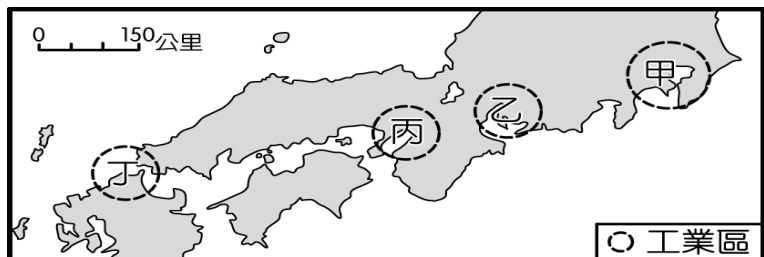
(五). 臺灣的甲企業和日本乙公司在 2012 年洽談相關合作，高達數千億日圓的合作案備受關注，而當事者雙方更希望可藉由兩集團之間的合作交流，促進相關產業的競爭力，達到一加一大於二的效果：

- ( ) (23) 關於上文提到的合作案，外傳甲企業打算投資大筆資金入股乙公司，一般認為最大



的好處為獲得乙公司提供的哪一項工業區位條件？(A)廉價勞工 (B)廣大市場 (C)生產技術 (D)豐富能源。

- ( ) (24)甲企業總裁為了這樁合作案，曾經三番兩次前往乙公司總部開會，表達合作的誠意。若甲企業總裁由臺北搭私人飛機前往日本，飛機應朝向哪一個方向飛行？(A)東北方(B)西北方(C)東南方(D)西南方。
- ( ) (25)承第(24)題，乙公司的企業總部及主要工廠皆設於東京，則甲企業總裁私人飛機將在下圖哪一個工業區降落最方便？(A)甲 (B)乙(C)丙(D)丁。



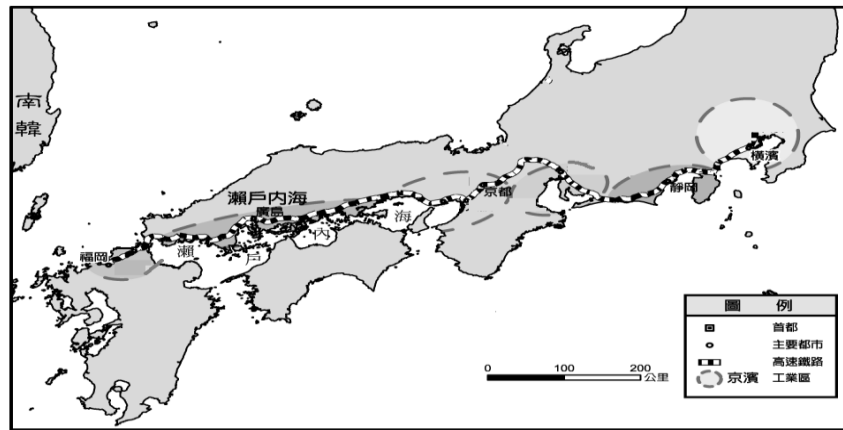
- ( ) (26)合作雙方產業正好為臺日兩國目前經濟發展的主力，一般認為兩者的合作將可大大強化雙方的產業體質，有利國際市場競爭力的提升。上述提到的產業最可能為下列何者？(A)造船業 (B)電子業 (C)軍火業 (D)採礦業。
- ( ) (27)對於日本乙公司而言，為了增加國際市場上的競爭力，目前多針對哪一目標來進行公司體質改造，以因應後起新興工業國家的競爭？(A)增加技術研發(B)提高生產成本(C)小型企業經營(D)減少市場行銷。

(六). 2011 年 3 月 11 日發生東日本大地震（震央如附圖），帶來海嘯、餘震等災害，受災地區主要集中在日本本州東北部、北海道一帶，死亡人數超過 15,000 人，為日本歷史上傷亡及經濟損失最慘重的天災之一。請回答下列問題：



- ( ) (28)日本多地震的原因與哪項位置特性最有關聯？(A)回歸線的通過位置 (B)板塊交界的接觸位置 (C)海洋與大陸的交會位置 (D)東北季風和西南季風的交替位置
- ( ) (29)東日本大地震是太平洋板塊隱沒到北美板塊之下形成的強烈地震。請觀察附圖，影響日本發生地震的板塊共有幾個？(A)一個 (B)兩個 (C)三個 (D)四個。
- ( ) (30)若日本九州發生大地震引發海嘯。請問最可能來自哪個板塊？(A)印澳 (B)北美 (C)菲律賓海 (D)太平洋。

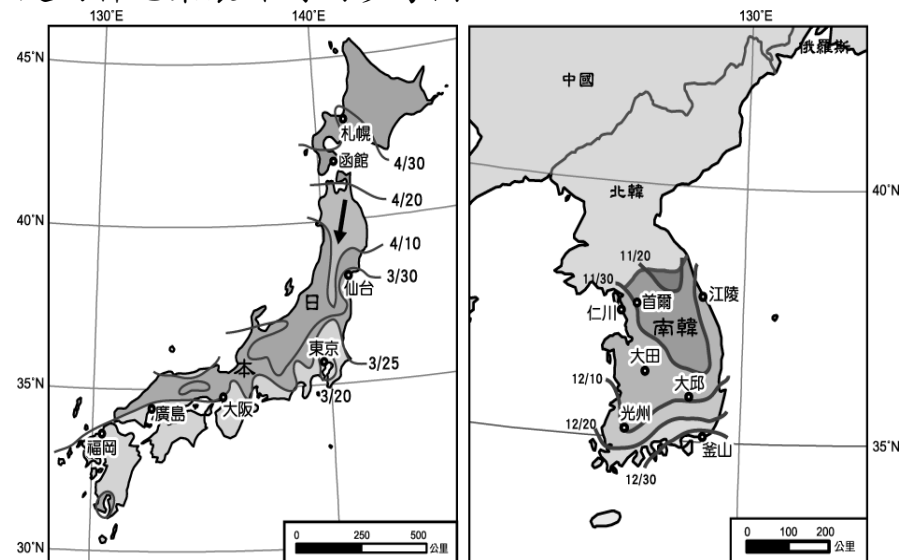
(七). 日本工業區分布的特點有所謂「三灣一海」。附圖是日本主要工業區分布圖，請回答：



▲日本主要工業區分布圖

- ( ) (31)圖中的工業區多集中在沿海地區，可能與哪個因素無關？(A)能源和原料多依賴進口 (B)日本沿海港闊水深，多天然良港 (C)依靠廉價勞力的優勢從事國際代工 (D)國內市場不夠大，需依靠輸出賺取外匯。
- ( ) (32)由日本主要工業區分布圖中觀察，缺少哪一個大島？(A)四國島 (B)本州 (C)四國 (D)北海道。
- ( ) (33)日本主要工業區多緊鄰什麼海域？(A)太平洋 (B)日本海 (C)大西洋 (D)南海。

(八). 日本及南韓因國土南北狹長，許多自然現象及人文景觀會依照各地的氣溫差異呈現規律的空間變化。左下圖是日本櫻花開花時間預測地圖，右下圖是南韓泡菜製作時間參考圖：



▲日本櫻花開花時間預測地圖

▲南韓泡菜製作時間參考圖

- ( ) (34)下列日本哪個都市，可以看到最晚綻放櫻花？(A)大阪(B)東京(C)廣島(D)函館
- ( ) (35)由日本圖中，可以看見「箭頭」所指的預測線，受到何種因素影響而呈現向下彎曲的特徵？(A)地形 (B)緯度 (C)人口 (D)季風風向
- ( ) (36)傳統上，南韓人民在入冬前須製作人量泡菜以儲備食物，愈早入冬的地區須愈早製作泡菜。請問：附圖何地須最早製作泡菜？(A)首爾 (B)大邱 (C)光州 (D)釜山
- ( ) (37)觀察附圖，日本櫻花開花時間的預測線及南韓泡菜製作時間的參考線，日期變化大致呈現南北向分布。請問：該現象與哪項因素最為相關？(A)地形 (B)緯度 (C)人口 (D)季風風向

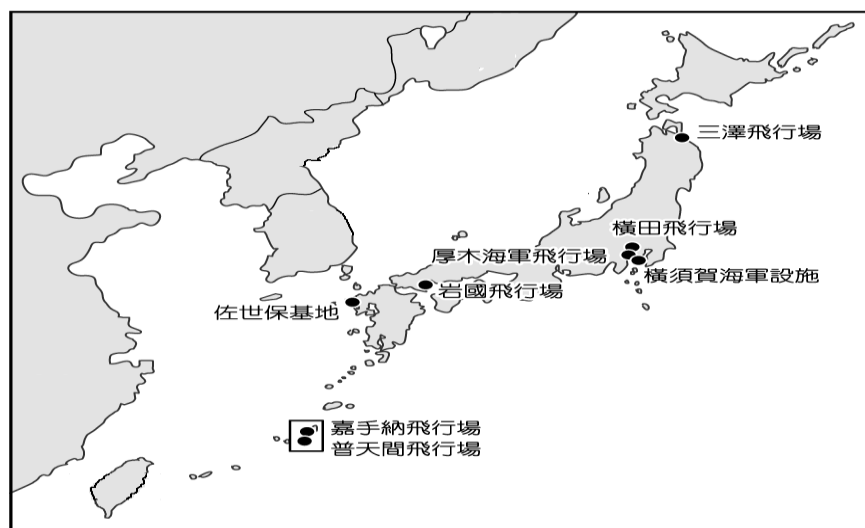
(九). 2016 年 4 月，臺灣的鴻海集團正式宣布入主日本企業夏普，這使得鴻海可整合面板事業。外界分析師認為，鴻海此舉利用日本企業的優點可以加強競爭力，並從代工生產跨入品牌銷售：

- ( ) (38)鴻海為世界著名的電子廠，大力投資入主日本企業夏普，可以獲得的生產條件最可能為下列何者？(A)廉價勞工 (B)進步技術 (C)工廠廣大土地 (D)豐富礦產。
- ( ) (39)夏普為日本百年企業，屬於該國八大電子產品工業公司之一，總部設立於大阪。若鴻海總裁要前往大阪視察，則應該到附圖中何處？(A)甲 (B)乙 (C)丙 (D)丁。



- ( ) (40)日本企業正面臨其他國家的挑戰，因此該國企業紛紛轉向以何種項目來獲利，維持其市場競爭力？(A)工業原料 (B)產品專利 (C)工業生產 (D)組裝代工。

(十). 日本在第二次世界大戰後，美軍根據兩國簽訂的《美日安保條約》，派遣部分美軍駐留在日本，附圖為美軍的駐日基地。近年來，隨著中國的崛起，因此派駐於日本的美軍在戰略角色上日漸重要：



- ( ) (41)美軍位於沖繩的嘉手納飛行場為東亞最大的空軍基地，若美軍戰機由此地飛往韓國釜山進行任務，則戰機的飛行方向為何？(A)東方 (B)北方 (C)西方 (D)南方。
- ( ) (42)美軍與日本進行聯合演習時，航空母艦由美國西部的海軍基地航向橫須賀海軍設施。請問：上述的航空母艦必須橫渡哪一個海洋？(A)大西洋 (B)印度洋 (C)太平洋 (D)北極海。

(十一). 日本觀光業盛行，積極推動地方創生，將衰落農村改變為藝術重生，百年溫泉以故事行銷來包裝，使國際旅客因此對於日本古蹟、民俗、溫泉、購物等感興趣，但受到新冠肺炎影響，日本政府觀光局推估 2020 年 4 月訪日外國觀光客僅約 2900 人次，創下 1964 年開始統計以來的新低紀錄。請問：

- ( ) (43)日本的外國觀光客主要來自下列哪三個國家？(A)美國、南韓、北韓 (B)中國、南韓、臺灣 (C)中國、南韓、越南 (D)美國

、南韓、臺灣。

- ( ) (44)下列哪一項日本景點的特色，吸引國際旅客一再回流造訪？(A)良好的治安、整潔的環境 (B)便宜的物價、良好的治安 (C)豐富的極限運動、整潔的環境 (D)便宜的物價、豐富的極限運動。
- ( ) (45)小薰利用暑假，特別跑到日本某城市觀光，看到著名的淺草觀音寺及新地標—晴空塔，這裡也是亞洲重要的金融中心與觀光重鎮。請問：他應該是在日本哪個城市旅遊？(A)京都 (B)大阪 (C)東京 (D)廣島。

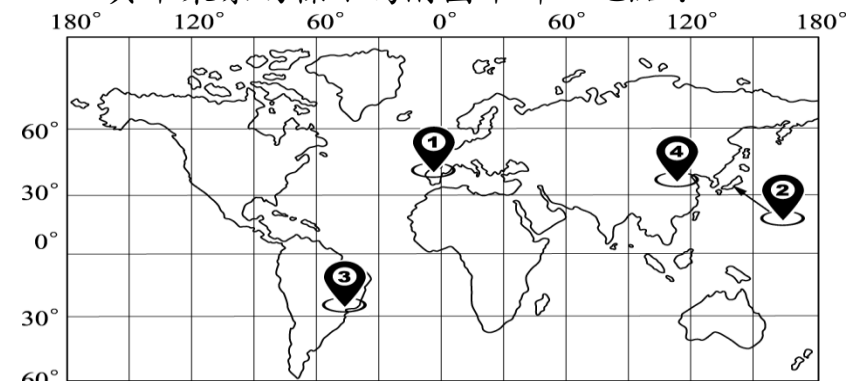
(十二). 住在臺灣的小恩和家人寒假前往日本進行鐵道之旅，在途中遇見許多有趣的事，讓他直說不虛此行，下列為他的行程簡表。請問：

第一天	由臺北松山機場直飛日本關西國際機場
第二天	參觀沿岸港都的觀光景點
第三天	搭乘新幹線欣賞沿途美景
第四天	享受泡湯及精緻懷石料理
第五天	由新千歲機場返回國門

- ( ) (46)她在旅行中，對於某都市的「異人館」印象相當深刻，傳說是過去國際貿易發達，因此許多外國人往來此地所留下的地標。請問日本對外貿易主要交通為何？(A)河運 (B)陸運 (C)海運 (D)空運。
- ( ) (47)小恩在第四天行程中，來到日本氣溫最低的島嶼，於是穿上了厚重大衣，享受雪國的另一種體驗。此時他所在的島嶼應該為下列何者？(A)北海道 (B)本州 (C)四國 (D)九州。

(十三). 2016 年巴西里約奧運結束，在閉幕式上將聖火交給下屆主辦都市——東京，正式宣告 2020 年奧運會將於 7 月 24 日至 8 月 9 日在日本東京舉行。根據國際奧會所舉行的會議，正式選出東京為 2020 年主辦城市，打敗了土耳其伊斯坦堡及西班牙馬德里，成為目前唯一舉辦過兩次夏季奧運的亞洲城市：

- ( ) (48)在國際奧林匹克委員會舉辦奧運城市選拔會議中，大會將三個候選城市標示於地圖上，其中東京的標示為附圖中哪一地點？



(A)① (B)② (C)③ (D)④。

- ( ) (49)2020 年東京奧運舉辦期間，由於可能會受到何種氣候現象的影響，容易出現大風雨而無法進行戶外賽事，因此主辦單位必須備妥雨天備案？(A)颱風 (B)熱浪 (C)寒流 (D)暴風雪。
- ( ) (50)承第(49)題。哪一個候選城市，此時天氣最冷？(A)① (B)② (C)③ (D)④。